

**Демонстрационный вариант
Информатика и ИКТ (итоговая работа)
6 класс**

Продолжительность работы: 45 минут

- 1** Установите соответствие между видами информации и их примерами: для каждой позиции из первого столбца подберите соответствующую позицию из второго столбца, обозначенную цифрой.

ВИД ИНФОРМАЦИИ	ПРИМЕРЫ
А) видеоинформация	1) пение птиц
Б) графическая информация	2) рукопись писателя
В) текстовая информация	3) немой фильм на киноплёнке
Г) звуковая информация	4) схема проезда к отелю

Запишите в таблицу выбранные цифры под соответствующими буквами.

	А	Б	В	Г
Ответ:	<input type="text"/>	<input type="text"/>	<input type="text"/>	<input type="text"/>

- 2** В списке приведены характеристики устройств, относящихся к системе персонального компьютера. Выберите характеристику монитора.

- 1) частота вращения 7200 об/мин
- 2) тактовая частота 2400 МГц
- 3) размер по диагонали 24"
- 4) максимальная скорость записи 24x

- 3** Перед каким знаком препинания всегда ставят пробел после предшествующего текста?

- 1) дефис
- 2) запятая
- 3) тире
- 4) тильда

- 4** Начальное положение курсора в программе «Блокнот» отмечено чёрным прямоугольником. Клавиши, которые последовательно были использованы при редактировании текста, изображены ниже. Запишите в ответ слово, которое получилось после окончания редактирования.

Л О Ж К А

← Bs K → → Del Y P

Ответ: _____

- 5 В текстовом редакторе набран фрагмент стихотворения русского поэта. Текст разбит на четыре абзаца. При наборе в некоторых абзацах был применен принудительный конец строки. Сколько раз этот специальный знак использовался в приведённом фрагменте?

*Александр Блок
Россия*

*Опять, как в годы золотые,
Три стертых треплются шлеи,
И вьются спицы расписные
В расхлябанные колёси...*

*Россия, нищая Россия,
Мне избы серые твои,
Твои мне песни ветровые,-
Как слезы первые любви!*

Ответ: _____

6

В текстовом документе среди прочих были использованы девять символов. Часть из них была набрана на клавиатуре шрифтом Times New Roman, часть вставлена с помощью диалогового окна «Символ». Выберите четыре символа, которые были добавлены в документ вторым способом.

1	2	3
Φ	®	\
4	5	6
×	~	☒
7	8	9
☎	S	Ë

В ответе запишите только номера символов без пробелов.

Ответ: _____

7

На рисунках представлены системы объектов: пруд, трамвай, гидроэлектростанция и город. Установите соответствие между изображениями системы и их видами: для каждой позиции из первого столбца подберите соответствующую позицию из второго столбца, обозначенную цифрой.

ИЗОБРАЖЕНИЯ СИСТЕМ

А)



Б)



В)



Г)



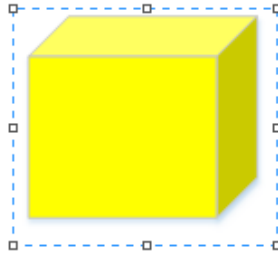
ВИДЫ СИСТЕМЫ

- 1) социальная
- 2) техническая
- 3) природная

Запишите в таблицу выбранные цифры под соответствующими буквами.

	А	Б	В	Г
Ответ:	<input type="text"/>	<input type="text"/>	<input type="text"/>	<input type="text"/>

- 8 Во время работы в графическом редакторе Paint часть изображения была выделена и помещена в буфер обмена. В каком месте холста она появится после вставки?



- 1) в месте положения курсора
- 2) в центре рабочей области
- 3) в левом верхнем углу холста
- 4) рядом с выделенным объектом

- 9 В каждой ячейке таблицы может быть использовано выравнивание текста по вертикали и по горизонтали (Таблица 1). Варианты выравнивания приведены в таблице 2. Какое выравнивание применено к желтой ячейке?

Таблица 1

★		★
★	★	
★	★	★
★	★	★
★	★	★

Таблица 2

ПО ВЕРТИКАЛИ		ПО ГОРИЗОНТАЛИ	
1)	по верхнему краю	4)	по левому краю
2)	по центру	5)	по центру
3)	по нижнему краю	6)	по правому краю

В ответе запишите две цифры без пробела: номер выравнивания по вертикали и номер выравнивания по горизонтали.










Ответ: ____

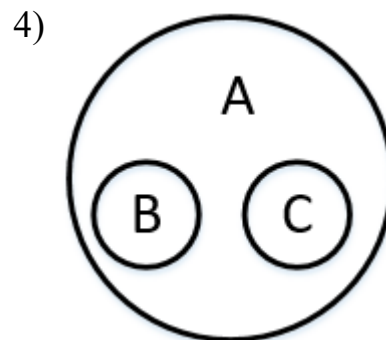
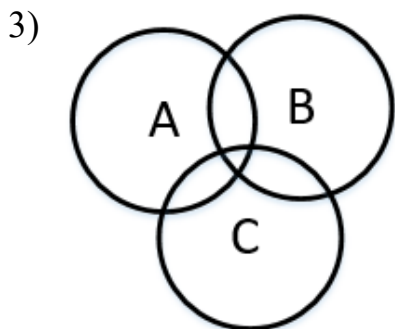
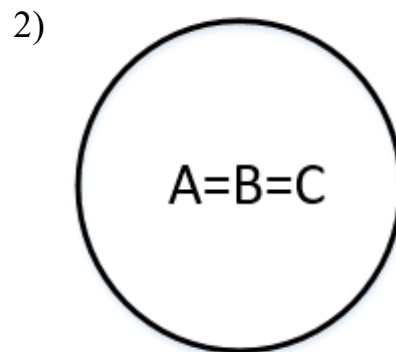
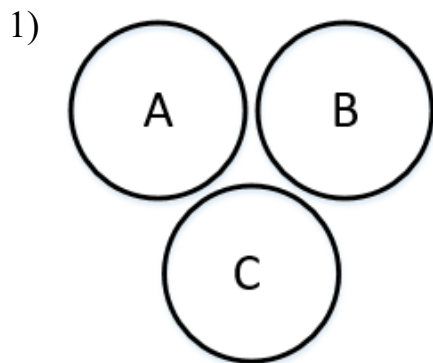
- 10 Как правильно записать адрес почтового ящика youth_14 в домене mail.ru?

- 1) youth.mail@ru
- 2) http://www.youth.mail.ru/
- 3) youth_14&mail.ru
- 4) youth_14@mail.ru

11

В таблице приведены графические примитивы, которые распределены по множествам: многоугольники, овалы и линии. Выберите схему, которая отражает отношения этих множеств.

МНОЖЕСТВА	ИЗОБРАЖЕНИЯ		
A			
B			
C			



12

Установите соответствие между определениями и терминами: для каждой позиции из первого столбца подберите соответствующую позицию из второго столбца, обозначенную цифрой.

ОПРЕДЕЛЕНИЯ

ТЕРМИНЫ

- | | |
|---|--------------------------|
| А) отдельный кадр презентации, т. е. страница визуальных материалов | 1) презентация |
| Б) режим отображения слайдов в виде эскизов для удобного изменения их порядка | 2) структура презентации |
| В) связанная последовательность слайдов по определенной тематике | 3) сортировщик слайдов |
| Г) документ, содержащий только заголовки слайдов и основной текст без графических изображений и специального оформления | 4) слайд |

Запишите в таблицу выбранные цифры под соответствующими буквами.

	А	Б	В	Г
Ответ:	<input type="text"/>	<input type="text"/>	<input type="text"/>	<input type="text"/>

13

Установите соответствие между типами объектов на слайде и иллюстрирующими их изображениями: для каждой позиции из первого столбца подберите соответствующую позицию из второго столбца, обозначенную цифрой.

ТИПЫ ОБЪЕКТОВ

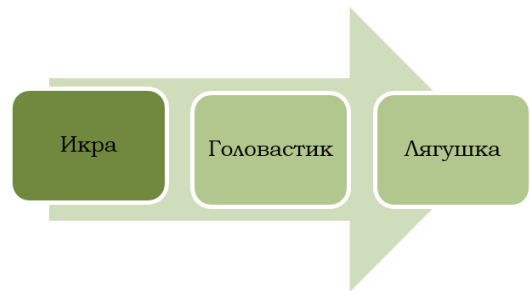
- А) объект WordArt
- Б) фигура
- В) объект SmartArt
- Г) диаграмма

ИЗОБРАЖЕНИЯ


1)



2)



3)



4)

Природа

Запишите в таблицу выбранные цифры под соответствующими буквами.

	А	Б	В	Г
Ответ:	<input type="text"/>	<input type="text"/>	<input type="text"/>	<input type="text"/>

Текстовый документ представляет собой сложный информационный объект. Он состоит из объектов, созданных непосредственно в среде текстового процессора, и из объектов, созданных в других программных средах и вставленных в документ. Установите соответствие между изображениями и видами объектов: для каждой позиции из первого столбца подберите соответствующую позицию из второго столбца, обозначенную цифрой.

ИЗОБРАЖЕНИЯ

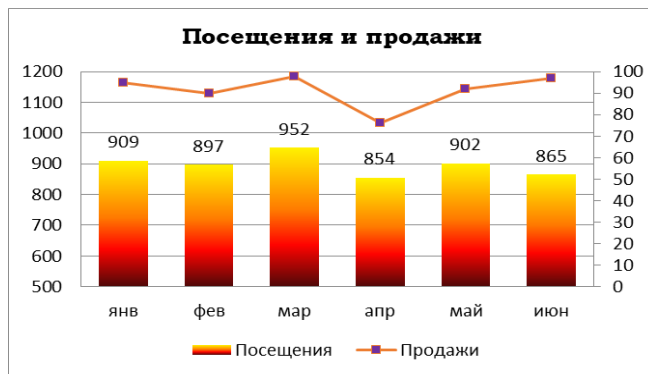
А)



- Б) • первый
• второй
• третий

- В) Чудесный зимний день. Морозная погода.
На небе голубом сияет солнца круг.
Под снегом сладко спит притихшая природа,
И снежным серебром покрыто всё вокруг...

Г)



Запишите в таблицу выбранные цифры под соответствующими буквами.

	А	Б	В	Г
Ответ:	<input type="text"/>	<input type="text"/>	<input type="text"/>	<input type="text"/>

15

Установите соответствие между пиктограммами и объектами операционной системы: для каждой позиции из первого столбца подберите соответствующую позицию из второго столбца, обозначенную цифрой.

ПИКТОГРАММЫ

А)



Б)



В)



Г)



ОБЪЕКТЫ

- 1) приложение
- 2) ярлык
- 3) документ
- 4) папка

Запишите в таблицу выбранные цифры под соответствующими буквами.

	А	Б	В	Г
Ответ:	<input type="text"/>	<input type="text"/>	<input type="text"/>	<input type="text"/>

16

Сколько уникальных имен файлов, записанных для операционной системы Windows, содержится в таблице?

Решённые задачи.doc
Решённые ЗАДАЧИ.doc
РЕШЁННЫЕ ЗАДАЧИ.doc
Решённые задачи.doc

Ответ: _____

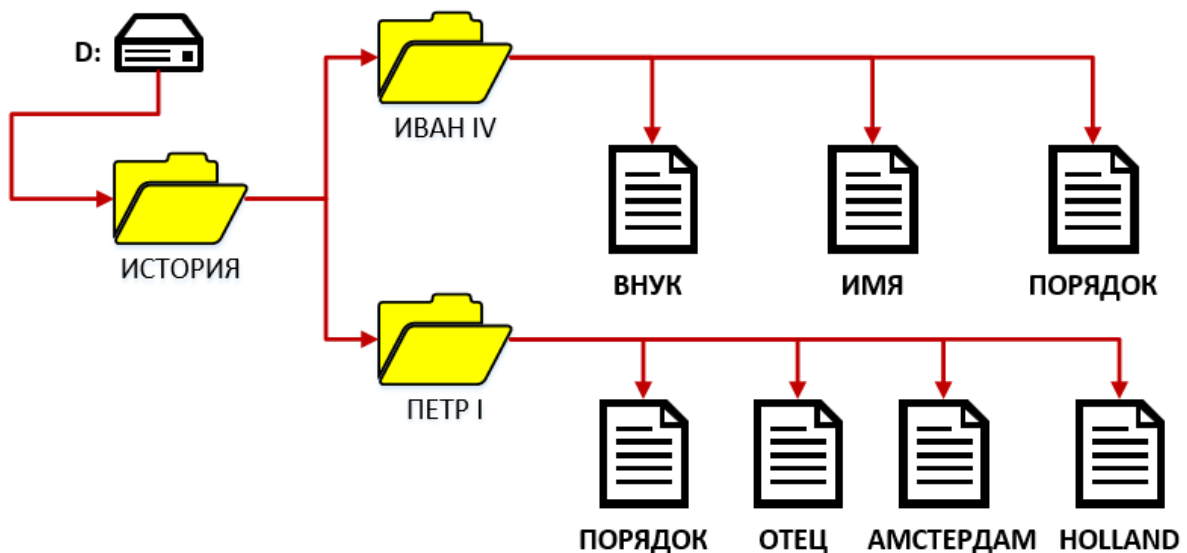
- 17 В таблице приведена информация о характеристиках файлов папки МОДЕЛИРОВАНИЕ. Выберите наибольший по размеру файл

№	Имя файла	Тип	Размер
1)	Куб для всех	Файл skp	2 351 104 бита
2)	РЕЛЬЕФНЫЙ КУБИК	Файл skp	9,76 МБ
3)	Головоломки	Файл avi	709 632 байта
4)	Цветы	Файл jpeg	10 240 КБ

В ответе запишите только порядковый номер файла в таблице.

Ответ: _____

- 18 На рисунке приведена схема файловой структуры. Выберите полное имя файла АМСТЕРДАМ.



- 1) C:\ИСТОРИЯ\ПЕТР I\АМСТЕРДАМ
- 2) D:\ИСТОРИЯ\ПЕТР I\АМСТЕРДАМ
- 3) D:\ИСТОРИЯ\ПЕТР I\АМСТЕРДАМ
- 4) D:\ИСТОРИЯ\ПЕТР I

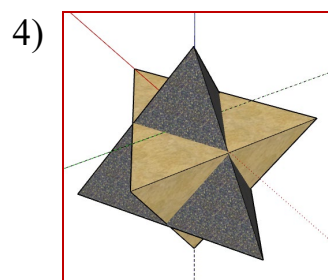
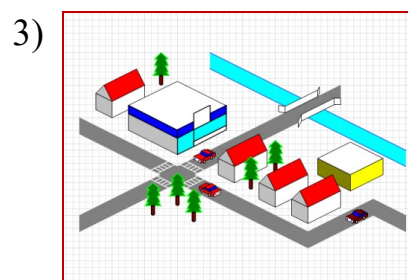

19

Установите соответствие между названиями моделей и примерами их изображений: для каждой позиции из первого столбца подберите соответствующую позицию из второго столбца, обозначенную цифрой.

НАЗВАНИЯ МОДЕЛЕЙ

- А) диаграмма
- Б) схема
- В) 3D-модель
- Г) рисунок

ПРИМЕРЫ

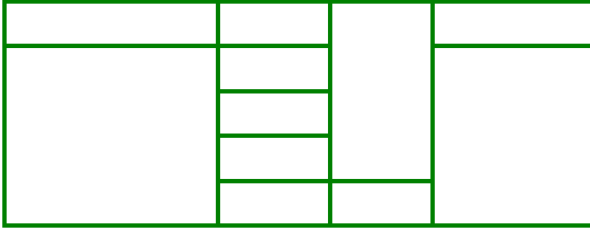


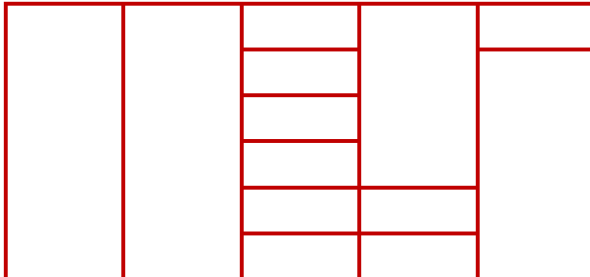
Запишите в таблицу выбранные цифры под соответствующими буквами.

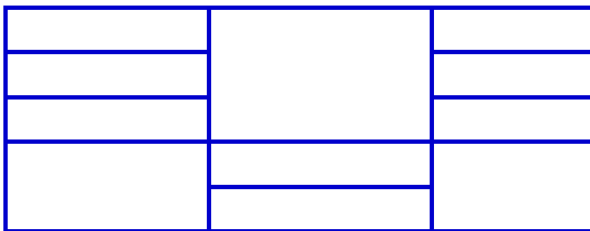
	А	Б	В	Г
Ответ:	<input type="text"/>	<input type="text"/>	<input type="text"/>	<input type="text"/>


Установите соответствие между таблицами и их характеристиками: для каждой позиции из первого столбца подберите соответствующую позицию из второго столбца, обозначенную цифрой.

ТАБЛИЦЫ

А) 

Б) 

В) 

Г) 

ХАРАКТЕРИСТИКИ

- 1) три строки, пять столбцов
- 2) пять строк, три столбца
- 3) пять строк, четыре столбца
- 4) шесть строк, пять столбцов

Запишите в таблицу выбранные цифры под соответствующими буквами.

	А	Б	В	Г
Ответ:	<input type="text"/>	<input type="text"/>	<input type="text"/>	<input type="text"/>

Ответы на задания

№ задания	Ответ
1	3421
2	3
3	3
4	КОЖУРА
5	6
6	2467
7	3221
8	3
9	34
10	4
11	1
12	4312
13	4321
14	2112
15	2341
16	2
17	4
18	2
19	2341
20	3421